



Retire o clipe para ver a
questão




Carta-questão



Em um torneio de vôlei, Beatriz e Bettina jogaram em times adversários, enquanto Mariana arbitrava. Quando o placar estava em 23 x 24, Beatriz foi responsável por realizar o saque. Levando em consideração que ela tem um histórico de saques muito falhos e que, mais uma vez, ela sacou para fora, descubra o ponto exato (ponto P) onde a bola caiu. O saque equivocado de Bia caiu a uma distância de 3 cm do vértice A da quadra e equidistante às retas s e f (margens da quadra):



Retire o clipe para ver o
gabarito



Em um torneio de vôlei, Beatriz e Bettina jogaram em times adversários, enquanto Mariana arbitrava. Quando o placar estava em 23 x 24, Beatriz foi responsável por realizar o saque. Levando em consideração que ela tem um histórico de saques muito falhos e que, mais uma vez, ela sacou para fora, descubra o ponto exato (ponto P) onde a bola caiu. O saque equivocado de Bia caiu a uma distância de 3 cm do vértice A da quadra e equidistante às retas s e f (margens da quadra):

